

2018年度 入学試験問題

(中学第1回午前)

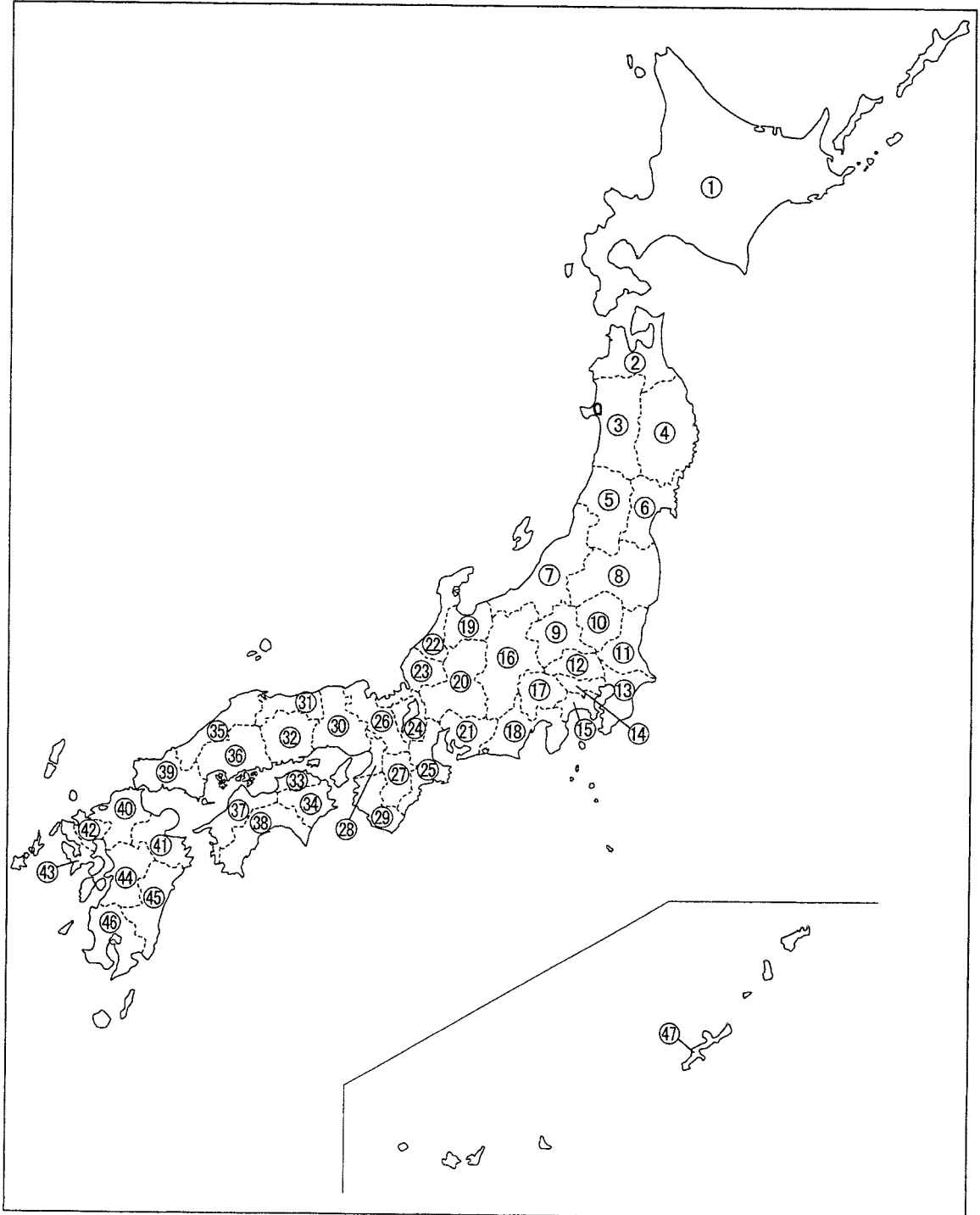
社 会

注 意

- 1 開始の合図があるまで、問題にふれてはいけません。
- 2 問題は8ページ、解答用紙は1枚です。
はじめに枚数をたしかめなさい。
- 3 えんぴつ鉛筆、消しゴム以外は使ってはいけません。
- 4 印刷がはっきりしないなど質問があったら、だまって手をあげなさい。
- 5 しゅうりょう終了の合図があったら、すぐに鉛筆をおき、先生の指示に従いなさい。

明 法 中 学 校

【1】次の地図を見て、あとの問いに答えなさい。



問1 次のあ～おの文は、すべて「海に面していない」都道府県について説明したものです。これについて、あとの問いに答えなさい。

- あ. この県には新潟県方面と長野県方面に行く新幹線が分かれる駅があります。高原野菜の生産がさかんで、キャベツの生産額では愛知県と首位を争っています。
- い. この県は南部の紀伊山地など山が多く、人口の9割以上が北西部の盆地に集中しています。現存する世界最古の木造建築物である法隆寺があり、観光業がさかんです。
- う. この県にはリニアモーターカーの実験線が作られています。扇状地での果樹栽培がさかんで、日本一のぶどうの生産地となっています。
- え. この県には平成10年頃まで東京都にあった大きな自動車工場が移転しました。日本一のいちごの産地として有名です。世界文化遺産の日光東照宮もあります。
- お. この県の県庁所在地は、南にある愛知県の名古屋市へ通勤・通学する人が多いので、名古屋大都市圏に入ります。北部の山岳地帯には、世界文化遺産の白川郷があります。

A あ～うの都道府県名をそれぞれ漢字で答えなさい。

B え・おの都道府県の位置はどこですか。地図中の番号でそれぞれ答えなさい。

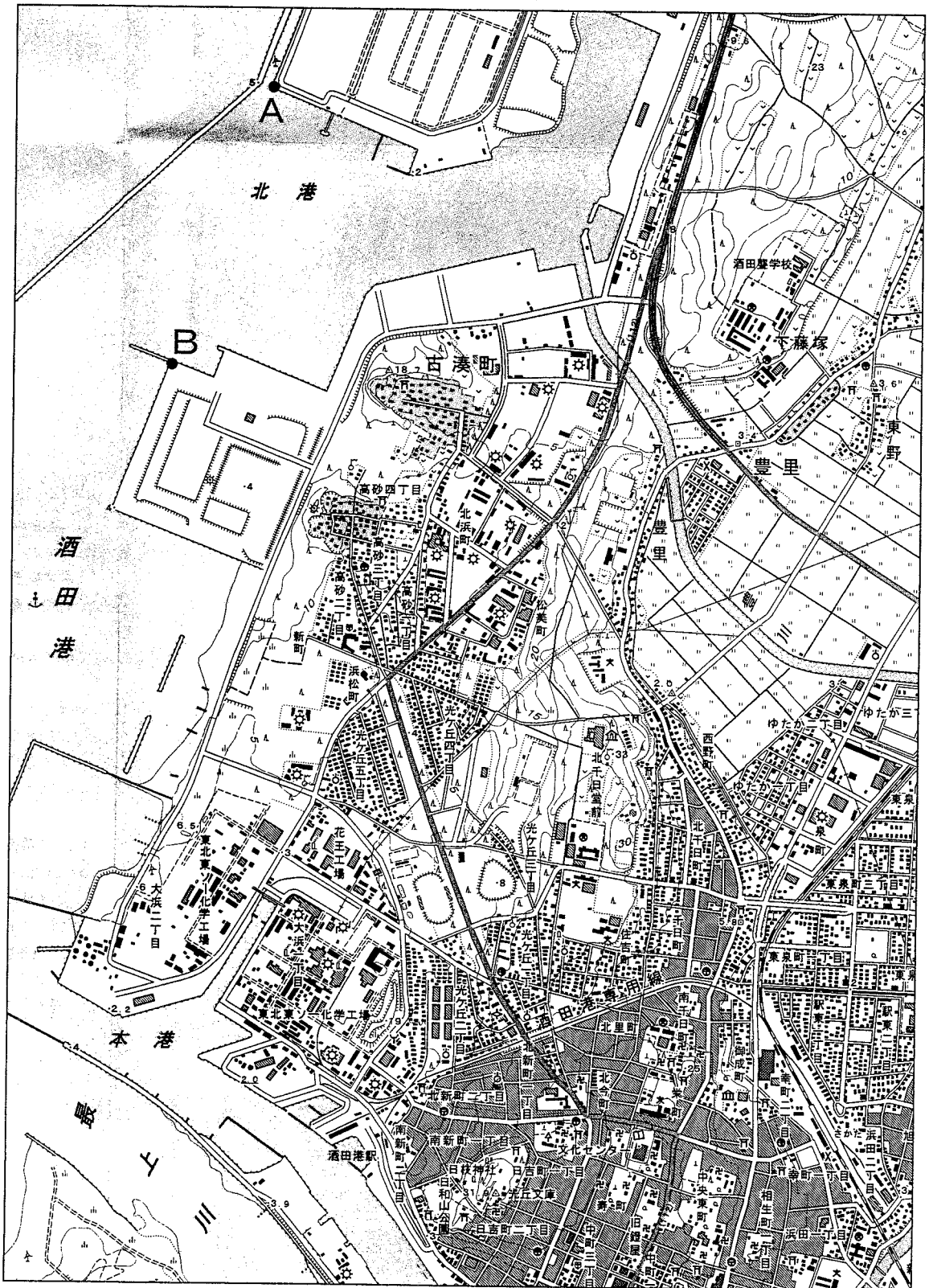
問2 次の表は、ある農産物A～Cについて、生産額上位3位までの都道府県を地図中の番号で示したものです。これにあてはまる農産物を下のア～クからそれぞれ選び、記号で答えなさい。

	A	B	C
1位	④	②	⑱
2位	⑪	⑯	④
3位	⑬	⑤	⑳

(2016年日本国勢図会より引用)

- ア. いちご イ. みかん ウ. りんご エ. ぶた
- オ. さつまいも カ. ピーマン キ. ねぎ ク. 茶


【2】次の地形図を見て、あとの問いに答えなさい。



(国土地理院発行の2万5千分の1地形図「酒田北部」より引用)

問1 地形図中の点Aと点Bの長さは、直線距離^{きんりょく}で約5cmあります。実際の距離は約何mですか。答えなさい。

問2 地形図中に見られる下の地図記号は、それぞれ何を示していますか。あてはまるものを下からそれぞれ選び、記号で答えなさい。



- ア. 工場 イ. 変電所 ウ. 保健所 エ. 消防署 オ. 税務署
カ. 警察署

問3 地形図についてのべた文として誤っているものを下から一つ選び、記号で答えなさい。

- ア. 「酒田^{さかた}職^{はつこ}学校」の北にある丘には、主に針葉樹林が広がっているが、一部では畑作も行われている。
イ. 「豊川^{とよかわ}」流域の平地には、水田が広がっている。
ウ. 「中央東町」や「寿^{ことぎ}町」には、多くの寺院がある。
エ. 「酒田港」の海岸ぞいには、桑畑^{くわ}が見られる。

問4 この地域は、東北地方のある平野にあります。その平野名を下から一つ選び、記号で答えなさい。

- ア. 津軽^{つがる}平野 イ. 秋田平野 ウ. 庄内^{しょうない}平野 エ. 仙台^{せんだい}平野

問5 この地形図を含む自治体は、昨年の夏、ある国からのミサイルを想定した避難^{ひなん}訓練を行いました。その国とはどこですか。国名を答えなさい（略称でもかまいません）。

問6 この地形図を含む県は、日本でも有数の稲作地帯として有名です。ここ数年、日本で米の生産額が1位・2位となっている都道府県の組み合わせとして正しいものを下から一つ選び、記号で答えなさい。

- ア. 新潟県・秋田県 イ. 新潟県・北海道
ウ. 宮城県・秋田県 エ. 宮城県・北海道

【3】2017年は日本国憲法が施行されて70年の節目にあたる年でした。そこで、日本の過去の法についてのべた下の文を読み、あとの問いに答えなさい。

憲法といえ、^{うまやどのおう しやうとくたいし}厩戸王(聖徳太子)が制定した(1)が思いうかびます。これは法というより、^{ごうぞく}豪族たちに天皇を支える役人としての心がまえを説いたものでした。6世紀末には、①南北に分かれていた中国が統一されて、周辺の国々では、政府に権限を集中させて強力な国家をめざす動きがありました。日本では、大化の改新にはじまる改革がおこなわれ、約半世紀をへて(2)律令が完成します。こうして、律令という法にもとづいて、朝廷が国を治めていくようになりました。

やがて、(3)が鎌倉に幕府を開き、武士の時代となっていきます。幕府は、^{ごとうは}後鳥羽上皇がおこした(4)の乱に勝利すると、朝廷に対して有利な立場となります。そして、②1232年に(5)を制定して、公平な裁判をするための基準をはっきりさせました。幕府は、武士が納得することを最優先にしてこの法を制定したので、武士たちからあついで^{しんらい}信頼を得て、その支配は安定しました。(5)は、室町幕府にもひきつがれ、さらに戦国大名がつくる法や、1615年に江戸幕府が大名にだした(6)にも^{えいきまう}影響をあたえました。なお、③(6)は変更点をふくめて将軍の代わりごとに新たに出されましたが、④8代将軍からあとは内容の変更はなかったようです。

明治時代になると、⑤^{せいおう}西欧諸国と対等な関係をきずくためにも、政府は近代的な法律を整えます。そして、⑥1889年に(7)が公布されました。これは明治憲法とも呼ばれていますが、天皇を中心とした日本の国家のあり方が決められています。この憲法で、天皇は主権者として大きな権限を持ちました。戦争を始めるのも、終わらせるのも天皇の権限でした。アジア・太平洋戦争は、^{こうふく}降伏文書の調印ではなく、⑦(8)宣言を受け入れることを、天皇がラジオで国民に告げた日が終戦とされているのも、そのためでしょう。

戦後、日本は連合国に^{せんりやう}占領されます。連合国は(9)を最高司令官とするGHQを通じて占領政策を実施していきます。なかでも新しい憲法の制定は、日本が変わったことを、国の内外にはっきりとわかってもらうためにも重要でした。そして、1946年、明治憲法の改正として、日本国憲法が国会で決まり公布され、翌年に^{しこう}施行となりました。このあと、日本は1951年、(10)平和条約で連合国の占領から^{だつ}脱して、独立国として国際社会に復帰していきます。

ここまで、それぞれの時代のあり方を決めてきた法についてみてきました。憲法が施行されて70年目の節目をむかえて、9条と自衛隊の問題など、憲法をめぐるさまざまな議論があります。それはこの国のあり方を決めていく議論であることは忘れないでおきましょう。

問1 (1) ~ (10) に入る語句をそれぞれ答えなさい。

問2 下線部①について、中国を統一し、厩戸王が使者をおくった王朝を下から一つ選び、記号で答えなさい。

ア. 宋^{そう} イ. 隋^{ずい} ウ. 元 エ. 唐

問3 下線部②について (5) を制定した人物を下から一つ選び、記号で答えなさい。

ア. 北条時政^{ほうじょうときまさ} イ. 北条時宗^{ときむね} ウ. 北条泰時^{やすとき} エ. 北条早雲^{そううん}

問4 下線部③について、3代将軍のときの変更点として、大名は領地と江戸を一年おきに交代で住むことを義務づけました。これを何といいますか、答えなさい。

問5 下線部④について、8代将軍の政治についてのべたものを下から一つ選び、記号で答えなさい。

- ア. 犬をはじめ、動物を保護する法令をだした。
- イ. 目安箱など庶民^{しよみん}の意見を政治にいかそうとした。
- ウ. 幕府が関係する学問所では、朱子学^{しゆし}以外を教えることを禁じた。
- エ. 商業を重視して財政の建て直しをはかるが、賄賂^{わいろ}政治と批判された。

問6 下線部⑤について、日本は欧米諸国と不平等な条約を結んでいました。関税自主権がないことや治外法権などを、日本がアメリカ合衆国に認めた条約を答えなさい。

問7 下線部⑥について、初代の内閣総理大臣となり、この憲法制定の中心となった人物を答えなさい。

問8 下線部⑦について、このラジオ放送があった日付を答えなさい。

【4】 次の問いに答えなさい。

問1 次のA～Dは日本国憲法について説明した文です。(1)～(5)に最もあてはまる語句を、下からそれぞれ選び、記号で答えなさい。

- A 国民は、すべての基本的人権を持っています。この憲法が国民に保障している基本的人権は、(1) 権利として、現在および将来の国民に与えられます。
- B この憲法が国民に保障している自由および権利は… (中略)…。また、国民は、これを(2) してはいけません。常に(3) のためにこれを利用する責任をおっています。
- C すべての国民は、その能力に応じて、(4) 教育を受ける権利をもっています。
- D すべての人は、(5) の定める手続によらなければ、生命や自由を奪われたり、その他の刑罰を受けたりしません。

- ア. みだりに利用 イ. 放棄 ウ. 公共の福祉 エ. 全体の利益
オ. 個人 カ. 憲法 キ. 法律 ク. 特色ある
ケ. 個別の コ. ひとしく サ. 侵すことのできない永久の
シ. 憲法により与えられた

問2 次の①～②のそれぞれの人権を実現するためのルールとして最もあてはまるものを下から一つずつ選び、記号で答えなさい。

- ① 知る権利 ② 経済活動の自由

- ア. 情報公開法 イ. 個人情報保護法 ウ. 特定秘密保護法
エ. 労働組合法 オ. 独占禁止法 カ. 平和安全法制関連2法
キ. 生活保護法 ク. 組織的犯罪処罰改正法 (組織的犯罪の共謀罪の新設)

【5】次の文を読んで、あとの問いに答えなさい。

昨年(1)の10月に(1)議員総選挙が行われました。2015年の公職選挙法改正により、選挙権年齢が(2)歳以上に引き下げられた後、(1)議員総選挙としては初めての選挙でした。

(1)議員の任期は2018年12月まででしたが、2017年9月、安倍内閣は「2019年10月の①消費税アップにより得られる収入の使い道を一部変更すること」「北朝鮮問題への対応」などについて、(3)の信(判断)を問うとして、(1)解散を表明しました。

そして選挙の結果、与党は313議席となり②(1)の議席の3分の2以上を占めることになりました。

問1 (1)に最もあてはまる語句を下から一つ選び、記号で答えなさい。

ア. 国会 イ. 衆議院 ウ. 参議院

問2 (2)に最もあてはまる数字を答えなさい。

問3 (3)に最もあてはまる語句を下から一つ選び、記号で答えなさい。

ア. 国会議員 イ. 裁判所 ウ. 国民 エ. 国際社会

問4 下線部①について、消費税は現在の何%から何%にアップされる予定ですか。下から一つ選び、記号で答えなさい。

ア. 現在の5%から8%にアップされる予定
イ. 現在の5%から10%にアップされる予定
ウ. 現在の8%から10%にアップされる予定
エ. 現在の8%から12%にアップされる予定

問5 下線部②について、「議席の3分の2以上を占めること」はどのような意味を持つといえますか。下から一つ選び、記号で答えなさい。

ア. 「国会の採決だけで憲法改正ができる可能性が出てきた」という意味を持つ。
イ. 「国会が憲法改正の国民投票を提案できる可能性が出てきた」という意味を持つ。
ウ. 「(1)の採決だけで憲法改正ができる可能性が出てきた」という意味を持つ。
エ. 「(1)の採決だけで憲法改正の国民投票を提案できる可能性が出てきた」という意味を持つ。

